

## تدريبات - الإخبار عن الوقت 3

اكتب الكلمة المناسبة تحت الصورة:



عقارب الساعة

ساعة حائط

ساعة رملية

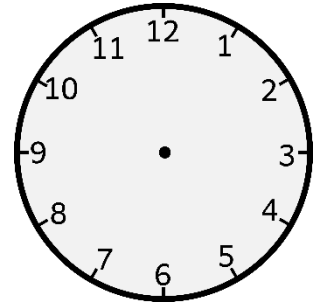
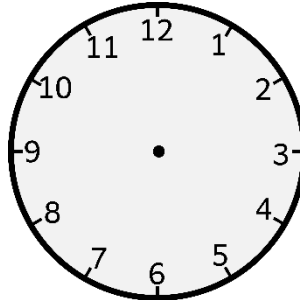
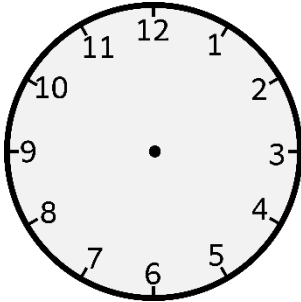
ساعة يد

منبه

ساعة رقمية



ارسم عقارب الساعة:



الحادية عشرة والنصف

الواحدة وعشر دقائق

التاسعة إله ربع